

電池とは

酸化還元反応に伴って放出されるエネルギー



電気エネルギーとして取り出す装置

負極

電子が流れ出す電極

酸化反応おこる

正極

電子が流れ込む電極

還元反応おこる

使い捨ての電池



一次電池

充電して繰り返し使用可能な電池



二次電池

鉛蓄電池

リチウムイオン電池

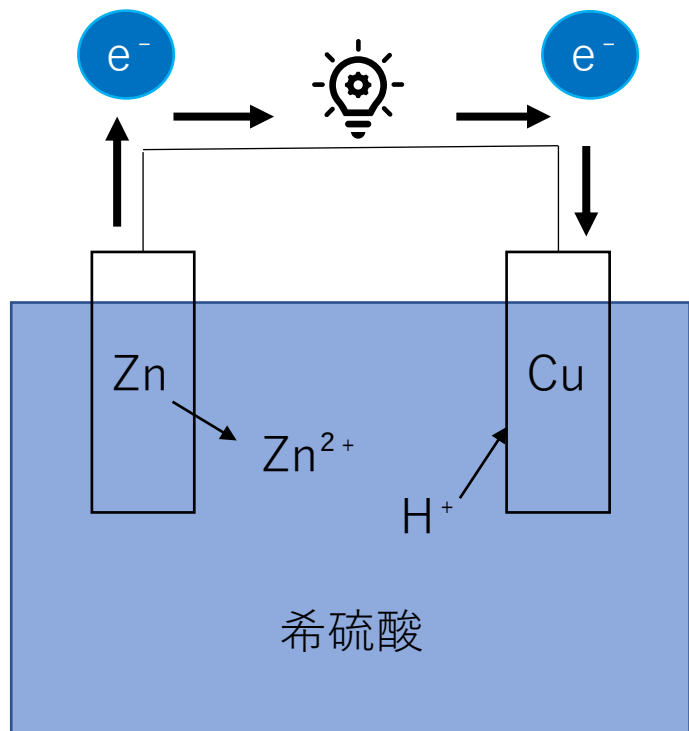
ニッケル-カドミウム電池

ニッケル-水素電池

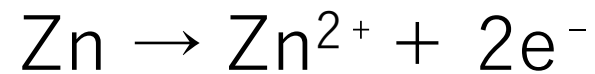
リチウム電池は
一次電池！！

ボルタ電池

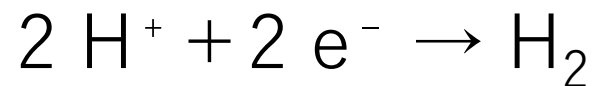
イタリアのボルタが1800年に発明した。



負極



正極



問題点

正極に水素の気泡がつく



水素イオンが正極に近づけなくなる



電子の移動が妨げられる

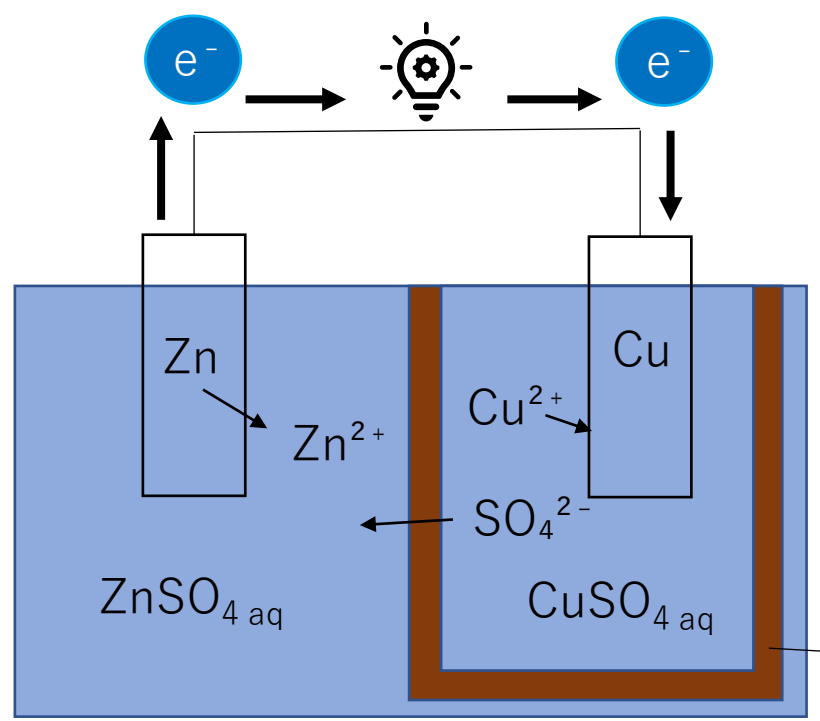


起電力が低下する

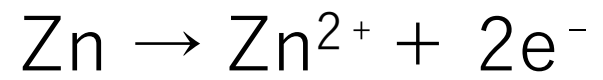
電池の分極

ダニエル電池

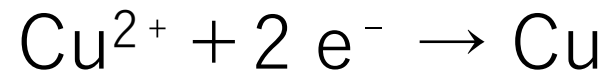
1836年にイギリスのダニエルによって考案された
ボルタ電池の改良版



負極



正極



水素が発生しない



電池の分極が起こりにくい

素焼きの筒

Cu²⁺とZn²⁺は混ざりにくい



電気的中性が保たれる

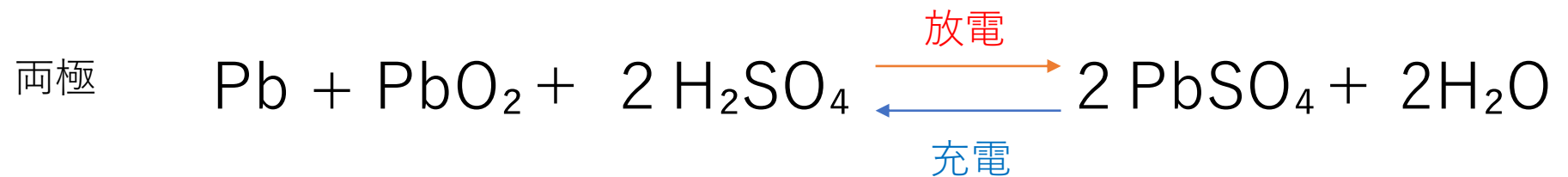
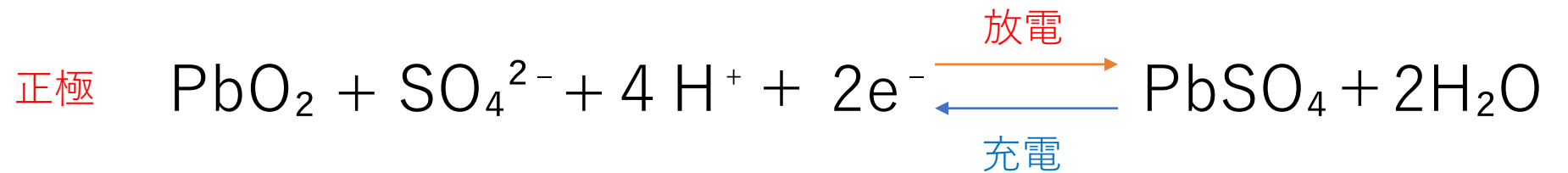
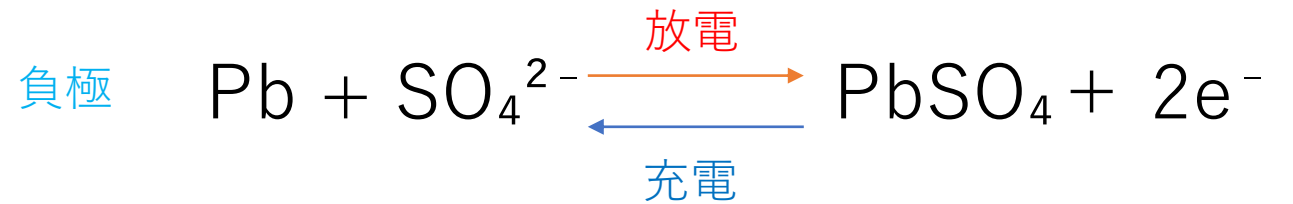
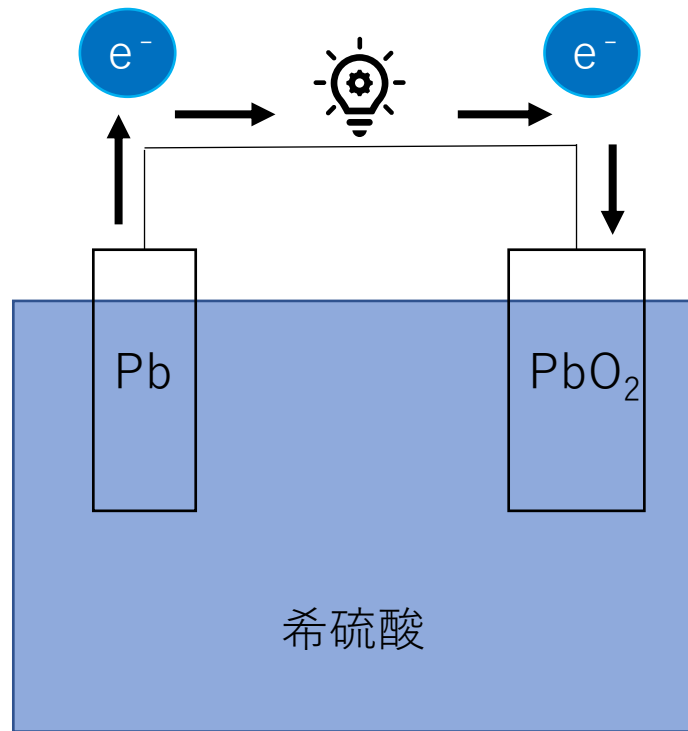
SO₄²⁻は通過しやすい

薄い方が

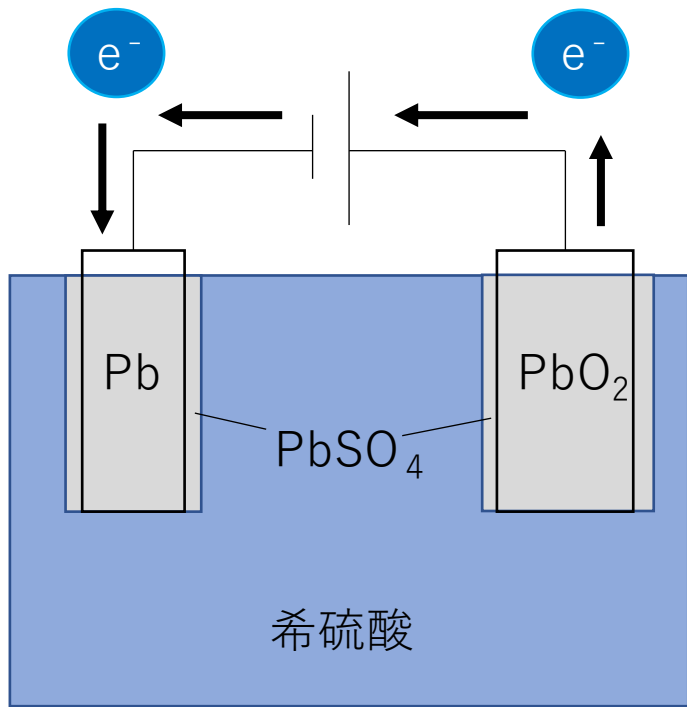
濃い方が

起電力が長時間安定する

鉛蓄電池



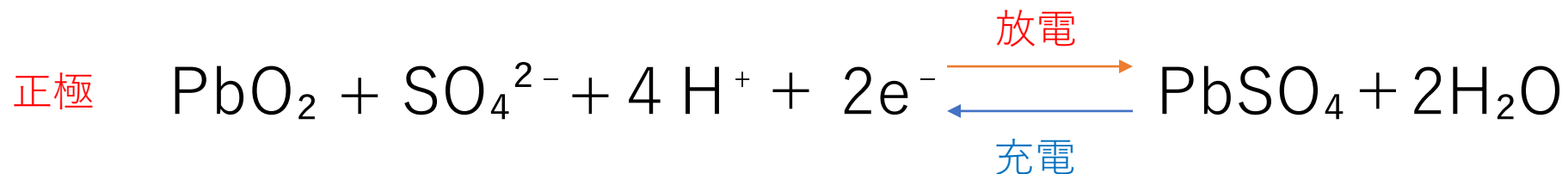
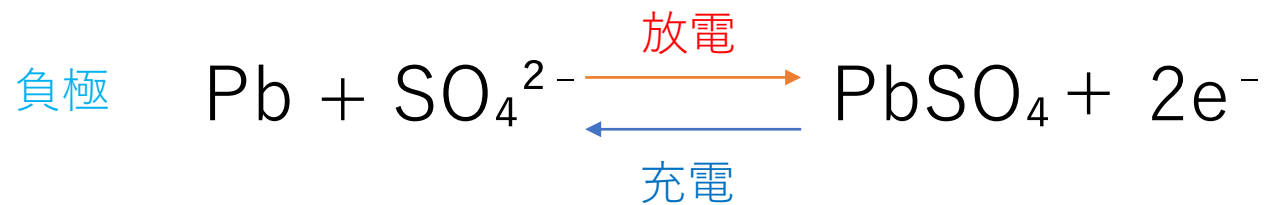
鉛蓄電池



〈充電する時〉

負極 (Pb) \longrightarrow 外部電源の負極を

正極 (PbO₂) \longrightarrow 外部電源の正極を



鉛蓄電池を一定時間放電させたのち、充電したところ、負極の質量が、充電前に比べて7.20gだけ減少した。次の各問いに答えよ。

(1) 充電中に負極および正極で進む変化を、電子 e^- を用いた反応式でそれぞれ示せ。

(2) 充電後の正極の質量は50.0gであった。充電前の正極の質量[g]，および充電する際に流れた電気量[C]をそれぞれ有効数字3桁で求めよ。

H : 1 O : 16 S : 32 Pb : 207

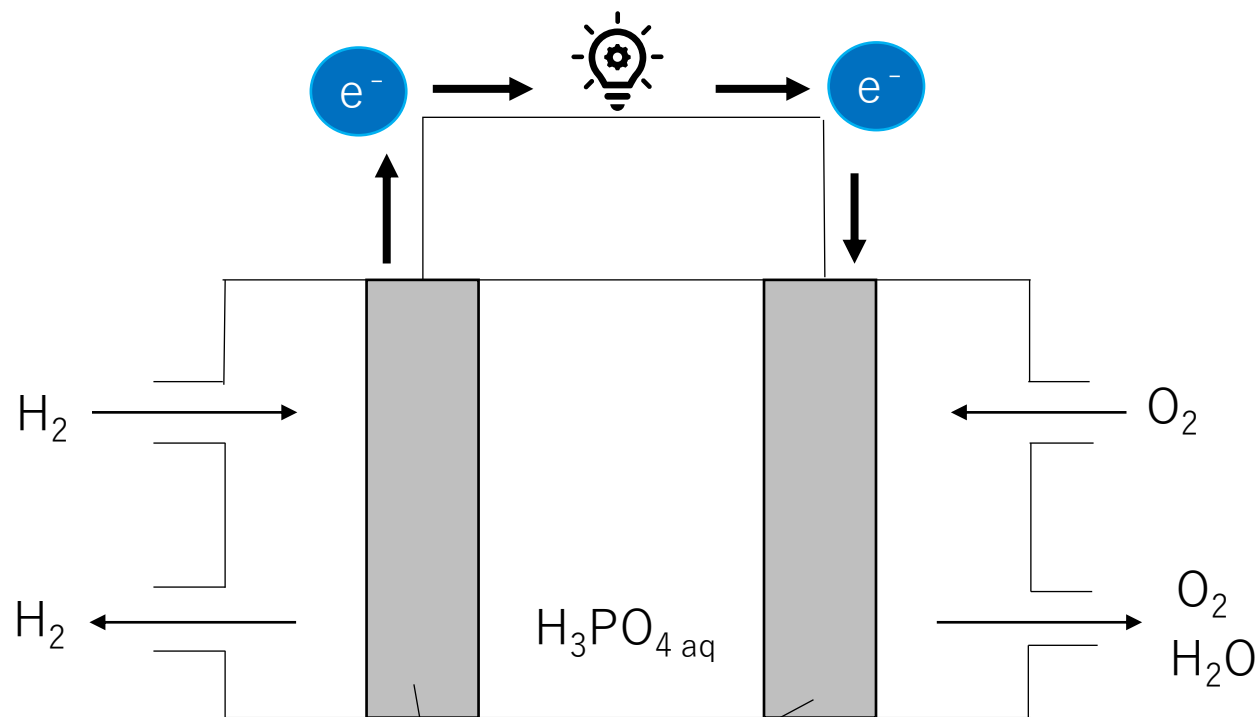
ファラデー定数 : 9.65×10^4 C/mol

(3) 充電後の希硫酸の質量パーセント濃度と質量はそれぞれ29.0%および495gであった。充電前の希硫酸の濃度は何%か。有効数字3桁で求めよ。

H : 1 O : 16 S : 32 Pb : 207

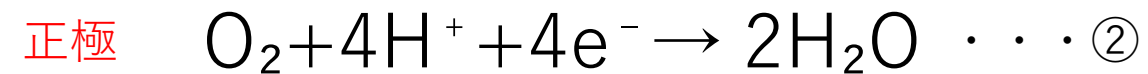
ファラデー定数 : 9.65×10^4 C/mol

燃料電池



白金触媒をつけた多孔質のニッケル板

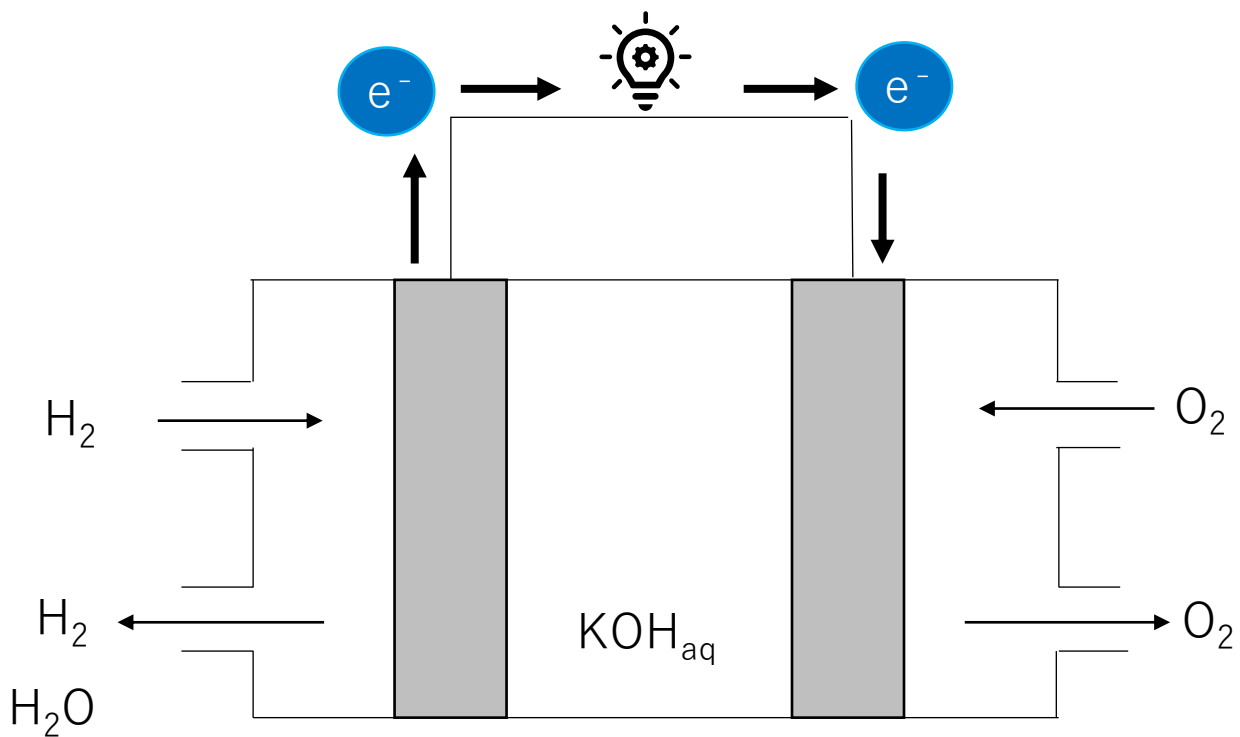
〈リン酸型〉



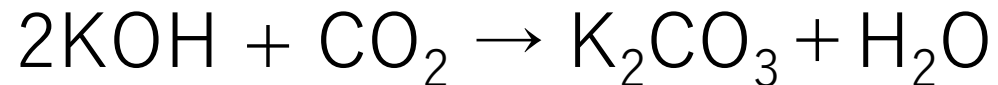
$$\textcircled{1} \times 2 + \textcircled{2}$$



燃料電池

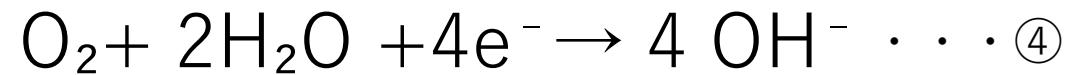
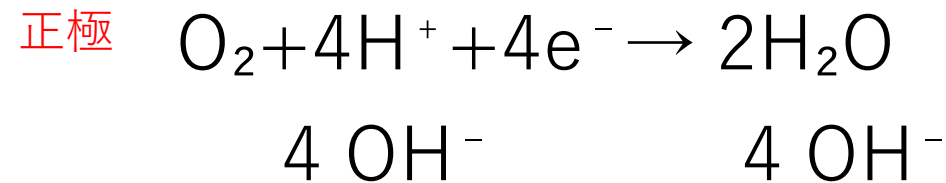
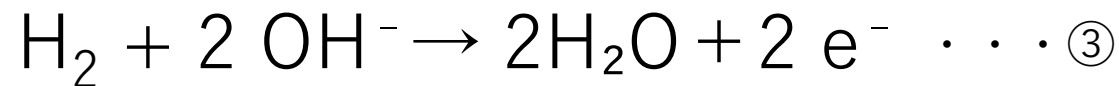
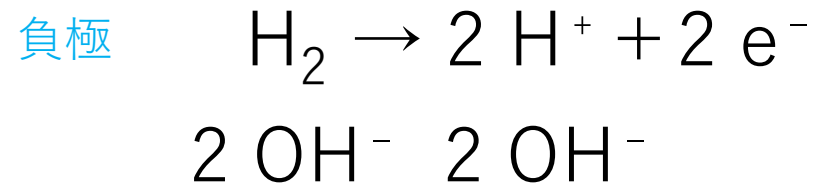


空気中では



起電力が低下する

〈水酸化カリウム型〉



$$\textcircled{3} \times 2 + \textcircled{4}$$



I 以下の問いに答えよ。[解答欄 ~]

問 1 次の文章を読んで問いに答えよ。[解答欄 ~]

図1は電解液に水酸化カリウム水溶液を使用したアルカリ型燃料電池の概略を示している。

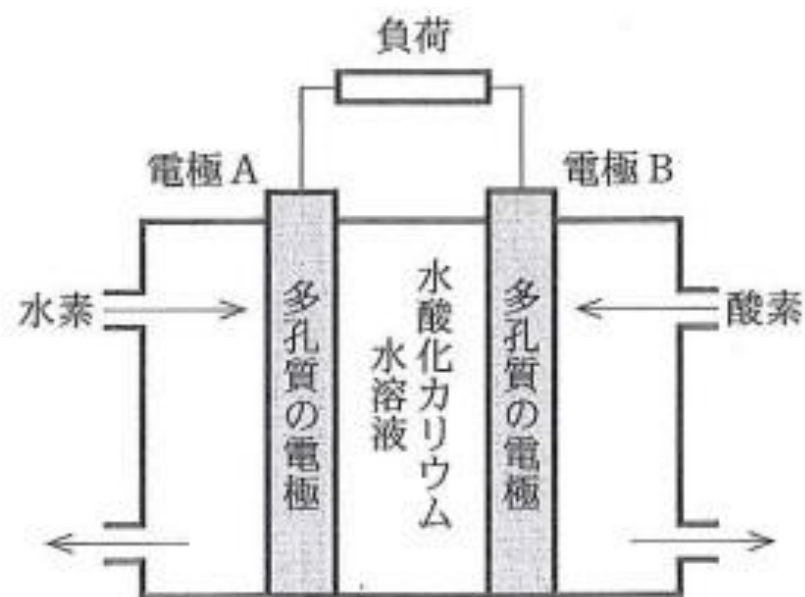
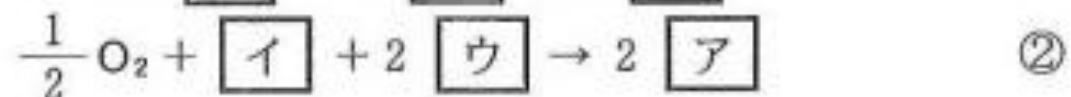
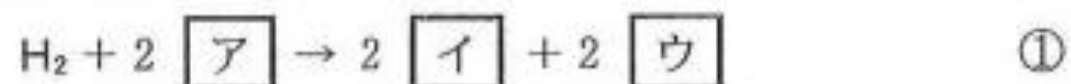


図1

白金を付着させた多孔質の電極 A と電極 B によって電解液をはさみこんでおり、一方から燃料の水素を、他方から酸素を供給すれば、電極 A では①式に示した反応が、電極 B では②式で示した反応が進む。したがって、水の生成熱を Q kJ/mol として、全体の反応を熱化学方程式で表すと式③のようになる。



- (1) $\boxed{\text{ア}}$ ~ $\boxed{\text{ウ}}$ に入る最も適当なものを①~⑧から一つずつ選べ。必要ならば、同じ選択肢を複数回選んでもよい。

- | | | | |
|----------------|----------------|-----------------|------------------------|
| ① e^- | ② H^+ | ③ OH^- | ④ H_2O |
| ⑤ K^+ | ⑥ KOH | ⑦ H_2 | ⑧ O_2 |

(2) 正極は電極 A と電極 B のどちらか。

① 電極 A

② 電極 B

(3) この燃料電池を 30 分間放電したところ、水が 1.80 g 生成した。この結果から、放電中の電流は A となるので、放電時の電圧を 0.800 V とすると、

$$\text{電気エネルギー}[\text{J}] = \text{電気量}[\text{C}] \times \text{電圧}[\text{V}]$$

の関係より、放電によって得られた電気エネルギーは kJ となる。H—H, O=O, O—H の結合エネルギーをそれぞれ 436 kJ/mol, 498 kJ/mol, 463 kJ/mol, 水の蒸発熱を 44.0 kJ/mol とすると、式③の反応で液体の水 1 mol が生成するときの反応熱 Q の値は と計算される。したがって、この燃料電池では % が電気エネルギーに変換されたことになる。

~ に当てはまる数値を有効数字 3 桁で、 に当てはまる数値は有効数字 2 桁で答えよ。

a. .

b. .

c.

d.

H : 1 O : 16

ファラデー定数 : 9.65×10^4 C/mol